

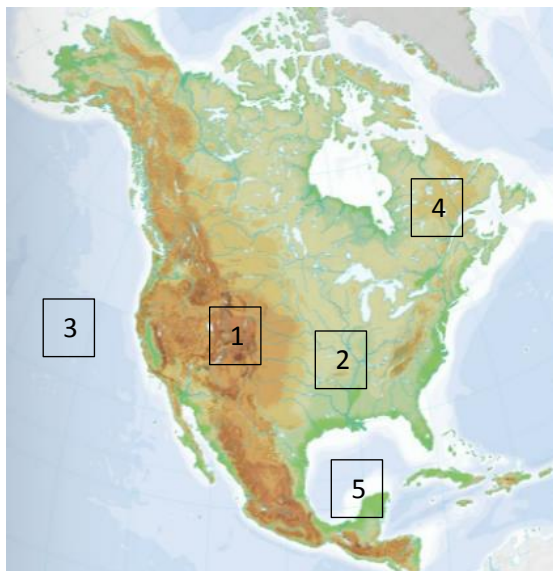
**PREVERI SVOJE ZNANJE – SEVERNA AMERIKA**

**1. Naravne enote Severne Amerike.**

a) Na karti imaš s številkami označeno gorovje (1), nižavje (2), ocean (3), polotoke (4), zaliv (5). Na prazne črte ob karti k vsaki številki napiši ustrežno geografsko ime.

b) Na zemljevidu s črkami označi: A Hudsonov zaliv, B Aljaska, C Prerija, D Reka sv. Lovrenca, E Kanadski ščit.

- 1 \_\_\_\_\_
- 2 \_\_\_\_\_
- 3 \_\_\_\_\_
- 4 \_\_\_\_\_
- 5 \_\_\_\_\_




	<b>10</b>
--	-----------

**2. Površje Angloamerike sestavljajo različne naravne enote.**

a) Prerez čez osrednji del ZDA v vzporedniški smeri dopolni tako, da na črte ob ustreznih številkah poimenuješ osnovne naravne enote.

	<b>5</b>
--	----------



- 1 \_\_\_\_\_
- 2 \_\_\_\_\_
- 3 \_\_\_\_\_
- 4 \_\_\_\_\_
- 5 \_\_\_\_\_

**3. Poveži določeno vrsto podnebja z zanj značilnim rastjem.**

	<b>8</b>
--	----------

A vlažni subtropski gozd

B prerija

C tajga

Č tundra

D tropski deževni gozd

E rastlinski višinski pasovi

F puščavsko rastlinstvo

G makija

H savana

\_\_\_ ekvatorialno podnebje

\_\_\_ zmernohladno podnebje

\_\_\_ celinsko podnebje

\_\_\_ puščavsko podnebje

\_\_\_ tundrsko podnebje

\_\_\_ gorsko podnebje

\_\_\_ sredozemsko podnebje

\_\_\_ vlažno subtropsko podnebje

**4. Nad Atlantikom v Srednji Ameriki nastajajo izjemno močni tropski viharji.**

	5
--	---

a) Oglej si sliko in pod njo zapiši ime viharja, ki ga predstavlja.

b) Pojasni nastanek tovrstnih viharjev.

---

---

---

---



c) Imenuj dve posledici tovrstnih viharjev.

1. \_\_\_\_\_

2. \_\_\_\_\_

c) Predlagaj eno rešitev za omilitev posledic tovrstnih viharjev.

1. \_\_\_\_\_

**5. Vpliv padavin na rabo tal/kmetijsko usmerjenost v ZDA.** Preberi besedilo in reši nalogo.

*Letna količina padavin vpliva tudi na različno rabo tal oziroma kmetijsko usmerjenost v vzhodnem (nad 500 mm padavin) in zahodnem (pod 500 mm padavin) delu ZDA.*

	2
--	---

(Vir: Fikreta Marković)

*Na črto napiši načina rabe tal/kmetijske usmerjenosti (panogi) vzhodno in zahodno od mrtve črte.*

a) Raba tal/kmetijska usmerjenost (panoga) na zahodu: \_\_\_\_\_

b) Raba tal/ kmetijska usmerjenost (panoga) na vzhodu: \_\_\_\_\_

**6. Za Srednjo Ameriko je značilen pisan mozaik prebivalstva.**

a) Na črti ob vsaki skupini prebivalstva zapiši, potomci kakšnih staršev so.

1. zamboji: \_\_\_\_\_

2. mestici: \_\_\_\_\_

3. mulati: \_\_\_\_\_

	3
--	---

**7. Prebivalstvo Severne Amerike.**

	4
--	---

a) Napiši, zakaj v Severni Ameriki narašča število prebivalstva. (1t)

b) Napiši, zakaj v Srednji Ameriki narašča število prebivalstva. (1t)

c) Napiši, zakaj so severni deli Severne Amerike in gorati zahod redko poseljeni. (Za vsako območje napiši odgovor.) (2t)

**8. Napiši, kdo danes živi v Severni Ameriki.**

	1
--	---

**9. Gospodarstvo Severne Amerike. Dopolni besedilo z ustreznimi pojmi.**

Kanada in ZDA imata razvito \_\_\_\_\_ kmetijstvo, za katerega je značilna uporaba \_\_\_\_\_ in zaščitnih sredstev.

	4
--	---

Kmetijstvo srednjeameriških držav temelji na \_\_\_\_\_, v večini primerov gre za pridelavo enega ali dveh pridelkov namenjenih \_\_\_\_\_.

**10. Kaj je silicijeva dolina? Kje leži? Zakaj ima takšno ime?**

	2
--	---

**11. Pred opis na desni zapiši ustrezno številko iz poimenovanja na levi.**

	2
--	---

**1** »PAS RJE« \_\_\_\_\_ nove industrijske panoge t. i. industrija visoke tehnologije na zahodu in jugu ZDA

**2** »SONČEV PAS« \_\_\_\_\_ terciarne dejavnosti za vzhodu ZDA

\_\_\_\_\_ težka industrija, ki se je začela razvijati na severovzhodu ZDA ob Atlantskem oceanu in Apalačih

**12. Srednja Amerika.**

Prevladujoči gospodarski panogi v Medmorski Ameriki sta \_\_\_\_\_ in \_\_\_\_\_. Mehika ima veliko naravnih bogastev, najpomembnejša sta \_\_\_\_\_ in \_\_\_\_\_. Tukaj je tudi veliko \_\_\_\_\_ in \_\_\_\_\_, zaradi stikov litosferskih plošč. Kuba je še danes \_\_\_\_\_ država. Njeno gospodarstvo temelji na izvozu \_\_\_\_\_ in \_\_\_\_\_.

2

**13. Podnebje.**

a) Razloži, kako Kordiljere vplivajo na podnebje Severne Amerike. (1t)

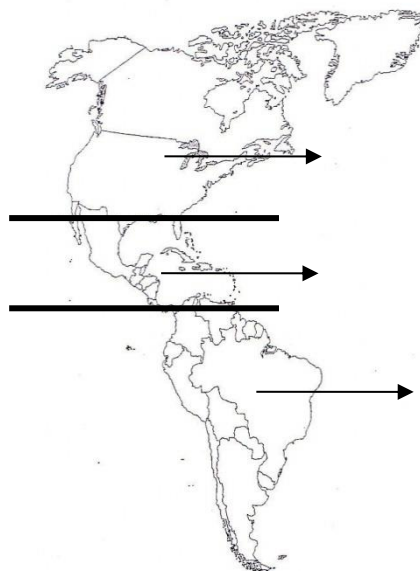
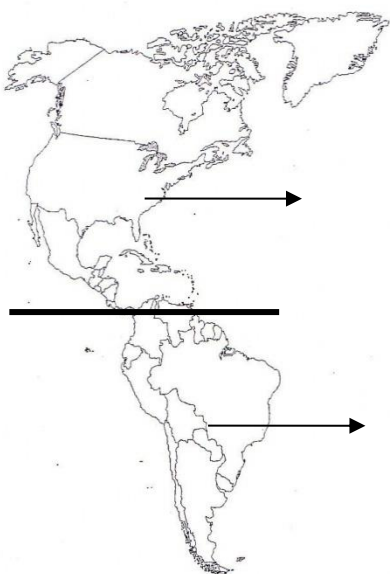
b) Razloži, kako Labradorski morski tok vpliva na podnebje Severne Amerike. (1t)

2

**14. Opiši tornado.**

**15. Poznamo različne delitve Amerike. Na spodnjih slikah sta prikazani dve delitvi Amerike. Pravilno poimenuj posamezne dele. Odgovor zapiši poleg puščice.**

5



**KAKO OCENJUJEM SVOJE ZNANJE? (OBKROŽI)**

SLABO

ZADOSTNO

DOBRO

ZELO DOBRO

ODLIČNO

**KATERO JE MOJE MOČNO PODROČJE?**

**KAJ SE MORAM ŠE NAUČITI?**