

PREVERJANJE ZNANJA

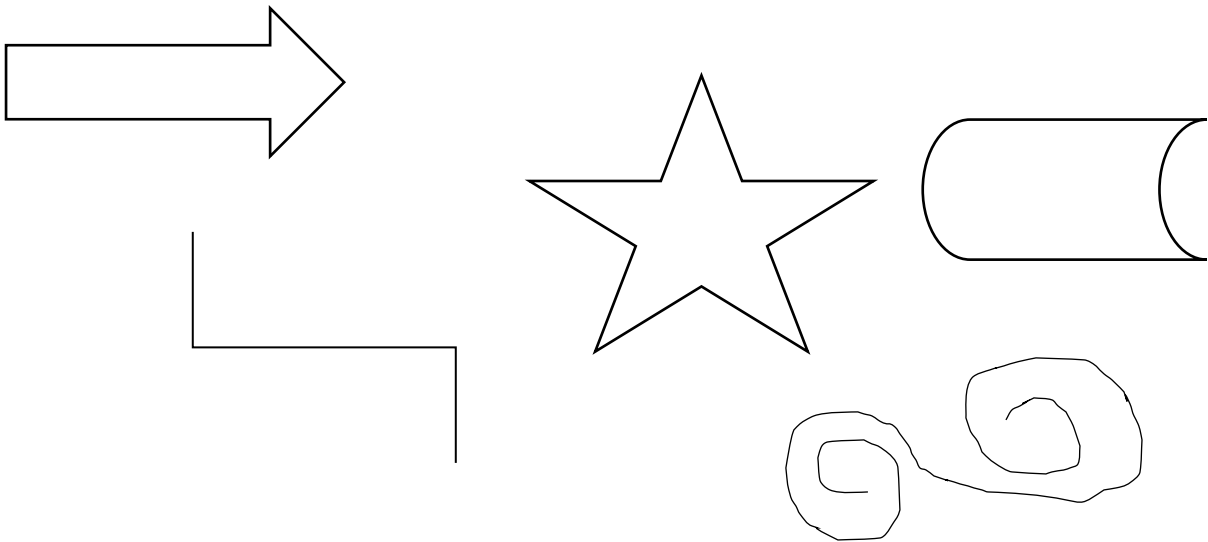
IME IN PRIIMEK: _____

RAZRED: _____

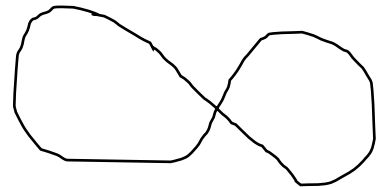
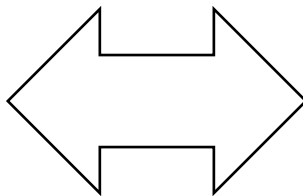

DATUM: _____

LE POGUMNO, NI TEŽKO!

1. Nesklenjene črte prevleci z zeleno barvo, sklenjene z rdečo.



2. Poimenuj narisane črte.



3. Nariši.

1 ravno sklenjeno lomljeno črto

1 krivo nesklenjeno črto

4. Računaj s pomočjo »vilčk«.

Na daljši način.

$8 + 7 =$

$12 - 5 =$

Krajše s pomočjo »vilčk«

$6 + 5 = \underline{\quad}$

$13 - 4 = \underline{\quad}$

$7 + 6 = \underline{\quad}$

$14 - 9 = \underline{\quad}$

$9 + 7 = \underline{\quad}$

$16 - 9 = \underline{\quad}$

$2 + 9 = \underline{\quad}$

$11 - 3 = \underline{\quad}$

$4 + 8 = \underline{\quad}$

5. Danim številom poišči račune, ki spadajo skupaj.

_____, _____,
_____, _____

5, 6, 11

6. Meta je imela v škatli 9 rdečih kroglic, na mizi pa 3 modre. Koliko kroglic ima Meta?

/3

Račun: _____

Odgovor: _____

7. Številu 17 odštej 5. Koliko je razlika?

/3

R: _____

O: _____